



التوجيه الفني العام للعلوم
اللجنة الفنية المشتركة للمرحلة الابتدائية

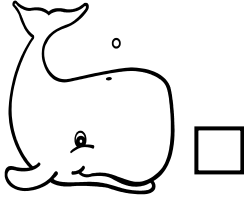
إجابة بنك أسئلة مادة
العلوم
الصف الثاني الابتدائي
الفترة الأولى
2015-2014

الوحدة الأولى

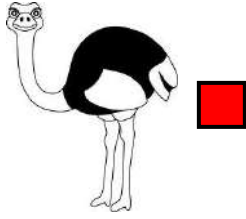
علوم الحياة

الفصل الثاني (الحيوانات)

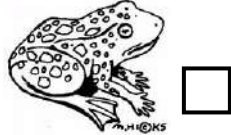

السؤال الأول: اختر الإجابة الصحيحة علمياً لكل من العبارات التالية بوضع علامة (✓) في المربع المقابل لها: -





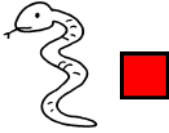
1- حيوان صغير الحجم: ص44



2- حيوان كبير الحجم: ص44



3- حيوان يغطي جسمه قشور: ص48



4- حيوان يزحف: ص46

5- عدد قوائم الصرصور : ص51



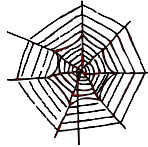
9 ☐

8 ☐

7 ☐

6 ☒

6- الحيوان الذي يعيش في هذا البيت هو: ص54



7- يغطي جسم الحصان : ص48




ريش ☐

درع ☐



شعر ☒

حراشف ☐

8- الحيوان الذي يتحرك مثل الخروف: ص46



9- الحيوان الذي ليس له قوائم: ص46



10- يغطي جسم الثعلب: ص48




شعر ☒

حراشف ☐

ريش ☐

قشور ☐

11- أحد الحيوانات التالية يزحف: ص46



12- عدد أرجل الخنفساء: ص51




6 أرجل ☒

5 أرجل ☐


4 أرجل ☐

3 أرجل ☐

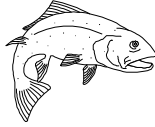
13- أحد الحيوانات التالية لا ينتمي لمجموعة الحشرات: ص50



14- تتحرك الحمامة مثل: ص46



15- حيوان يغطي جسمه شعر: ص48



16 - حيوان ليس له قوائم : ص46



17- جسم الحشرة يتألف من أجزاء : ص50





5 ☐

4 ☐

3 ☒

2 ☐

18- حيوان يغطي جسمه حراشف : ص48



السؤال الثاني: أكتب بين القوسين كلمة (صحيحة) للعبارة الصحيحة وكلمة (خطأ) للعبارة غير الصحيحة في كل مما يأتي:

- 1- للحيوانات أشكال وألوان مختلفة. (صحيحة) ص 44
- 2- تستخدم البطة زعانفها في السباحة. (خطأ) ص 46 
- 3- يغطي جسم الكتكوت شعر. (خطأ) ص 48 
- 4- يتألف جسم النملة من ثلاثة أجزاء. (صحيحة) ص 50 
- 5- تنتمي الجرادة والذبابة لمجموعة الحشرات. (صحيحة) ص 50 
- 6- تحتاج الحيوانات إلى الطعام والماء والهواء. (صحيحة) ص 54-55
- 7- يغطي جسم السمكة قشور ملساء تساعد على السباحة. (صحيحة) ص 48 
- 8- تساعد الحراشف الحية على التنقل. (صحيحة) ص 48 
- 9- عدد أرجل الذبابة 8. (خطأ) ص 51 
- 10- يمنع الريش دخول الماء إلى جسم البطة. (صحيحة) ص 48 
- 11- يساعد الشعر على بقاء جسم القطاة دافئاً. (صحيحة) ص 48 
- 12- يعتبر النمل من الحيوانات كبيرة الحجم. (خطأ) ص 44 
- 13- يقفز الضفدع من مكان لآخر. (صحيحة) ص 46 
- 14- الحية تزحف على الأرض. (صحيحة) ص 46 
- 15- تنتقل الحيوانات بطرق مختلفة. (صحيحة) ص 46
- 16- يغطي جسم الدجاجة ريش. (صحيحة) ص 48 

السؤال الثالث: أكمل كل من العبارات التالية بما يناسبها علمياً:

- 1- تستخدم الأسماك  .. **الزعانف**.... في السباحة. (الزعانف – الأرجل) **ص 46**
- 2- للحيوانات ألوان وأشكال **مختلفة** (متشابهة – مختلفة) **ص 44**
- 3- يغطي جسم التمساح  ... **حراشف** ... (القشور – الحراشف) **ص 48**
- 4- ينقسم جسم الحشرة  إلى رأس وصدر و ... **بطن**.... (بطن – ذيل) **ص 50**
- 5- عدد أرجل الجراد  **6** (6 – 8) **ص 51**
- 6- يغطي جسم القط  ... **شعر** ... (شعر – قشور) **ص 48**
- 7- تنتمي الذبابة  إلى مجموعة ... **الحشرات** ... (الحشرات – الأسماك) **ص 50**
- 8- الفيل  من الحيوانات ... **الكبيرة** ... الحجم . (صغيرة – كبيرة) **ص 44**
- 9- يتكون جسم الفراشة  من ... **ثلاثة** .. أجزاء. (ثلاثة – أربعة) **ص 50**
- 10- يغطي جسم السمكة  **قشور** (قشور – ريش) **ص 48**
- 11- تحمي **الحراشف** جسم التمساح  ويساعده على التنقل. (الحراشف – القشور) **ص 48**

السؤال الرابع: في الجدول التالي اختر العبارة أو الشكل من المجموعة (ب) وأكتب رقمها أمام ما يناسبها من عبارات المجموعة (أ):

ص 46

الرقم	مجموعة (أ)	الرقم	مجموعة (ب)
3	حيوان يمشي.	1	البومة 
4	حيوان يسبح.	2	الثعبان 
1	حيوان يطير.	3	الخروف 
		4	السمة 


ص 46

الرقم	مجموعة (أ)	الرقم	مجموعة (ب)
2	حيوان يزحف	1	سمكة 
1	حيوان يسبح	2	الضب 
		3	الأرنب 



ص 46

الرقم	مجموعة (أ)	الرقم	مجموعة (ب)
2	حيوان يمشي	1	ضفدع 
1	حيوان يقفز	2	الدب 
		3	الحية 



الرقم	مجموعة (أ)	الرقم	مجموعة (ب)
-------	------------	-------	------------



3	حيوان يغطي جسمه حراشف.	1	الدجاجة
4	حيوان يغطي جسمه شعر.	2	السمة
1	حيوان يغطي جسمه ريش.	3	السحلية
		4	الفأر

الرقم	مجموعة (أ)	الرقم	مجموعة (ب)
3	يغطي جسم البطة 	1	شعر
1	يغطي جسم الأرنب 	2	حراشف
		3	ريش

الرقم	مجموعة (أ)	الرقم	مجموعة (ب)
3	تساعد الثعبان  على التنقل	1	الريش
2	تساعد السمكة  على السباحة	2	القشور
		3	الحراشف

الرقم	مجموعة (أ)	الرقم	مجموعة (ب)
3	عدد أجزاء جسم النملة 	1	3
6	عدد قوائم النملة 	2	4
		3	6

السؤال الخامس: أكمل البيانات على الشكل الموضح أمامك:

الشكل يوضح أجزاء جسم النملة
أكتب ما تشير إليه الأسهم :

صد 50

رأس

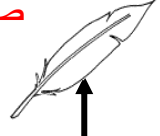
صدر

بطن



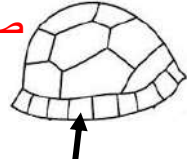
صد 48

ريش ...



صد 48

درع ...



الشكل يوضح أجزاء جسم السمكة أكتب ما يشير إليه السهم :

صد 46

خياشيم



الشكل يوضح أجزاء جسم السلحفاة أكتب ما يشير إليه السهم :

صد 48

درع

